

南の沢小学校の2年生の保護者の皆様へ

2年生課題

4月20日(月)～4月25日(金)

① かんぺきくんの5ページまでが課題となっております。(丸付けは休校明けに学校で行います)

② 以下のページから、一日に国語1ページ、算数1ページのペースを目安に取り組んでください。最後のページに解答もありますので、丸付けややり直しもご家庭でお願いいたします。

1

げんご

いしねんせい

# 一年生の かんじ(1)

なまえ

ねん ぐみ ほん

/16もん

( ) には — の かんじの なまえ、□ には かんじを かきまじめよう。

① 大だいききな ははここ ( )

② かかわいいい 犬いぬ ( )

③ じじょうようよう車くるま ( )

④ たたくさんの 人ひと ( )

⑤ 子こどもの くくにに ( )

⑥ ひひろい 空そら ( )

⑦ 男おとこの子こ ( )

⑧ 女おんなの子こ ( )

⑨ □ ひと つぶつの ぶぶどうどう。

⑩ □ ふた つ できたきた。

⑪ ままどを □ み つ ただく。

⑫ ○ を □ よ つ かく。

⑬ □ い つ の おははじじきき。

⑭ □ む つ ねると お正しょう月がつ。

⑮ □ な の おいいわいい。

⑯ かねが □ や つ なる。

しゅくだいプリント 月 日 ( ) 名前 ( )

えを見て ひらがなで ことばを かきましよう。

⑤

に
が
く




③

し
せ
き



①


き



⑥




か



④

き



②

ひ
る

しゅくだいプリント	月	日	( )	名前( )
-----------	---	---	-----	-------

(1) 正しいことばのつかい方のほうに○をつけましょう。

① このプールは

- ( ) ふかい。
- ( ) ひくい。

②

- ( ) たかい
  - ( ) ほそい
- 山にのぼります。

- ③
- ( ) やさしい
  - ( ) おかあさんが
  - ( ) さむい
  - ( ) すきです。

④

- ( ) ふとい
  - ( ) おもい
- みきの木にのぼった。

(2) つぎのようすをあらわすことばのつかい方で、よいものには○、わるいものには×をつけて ( ) に書きなおしましょう。

①

「かなしい目をした女の子。」

②

「空から青い雪がふってきた。」

③

「かたい石をけずる。」

④

「手がこおりのようにあつい。」

⑤

「あさいケーキを食べる。」

⑥

「ほそい糸だけだよわい。」

( )には — の かんじの なまえ、□には かんじを かきかきましょう。

( )

① 一 ひきの ね。

( )

② こいたが 二ひき。

( )

③ 四かい うたう。

( )

④ 五の ボール。

( )

⑤ おちらが 六まい。

( )

⑥ 七にんの こども。

( )

⑦ ビルの ハかい。

( )

⑧ 九つの ボタン。

⑨ □ て

をつないで あるく。

⑩ □ じゅう

まで かぞえる。

⑪ □ おお

きな こえで はなす。

⑫ あの

□ いぬ

は かわいいね。

⑬ じどう

□ しゃ

を うんでんする。

⑭ あの

□ ひと

は だれだろう。

⑮ □ こ

どもようの じてんしゃ。

⑯ □ そら

に くもが うかんで いる。

しゅくたい プリント	月	日	( )	名前
---------------	---	---	-----	----

はるの はな

--	--	--	--	--	--

あそびに


たんぽぽ いぬくぐり

すぐ あしあとに

ほら ゆびあそびに




ここにいぬいにつまよう。





① したの とけいを よみましょう。


(1)




(2)




(3)




(4)



(5)




(6)




② ながい はりを かきましょう。

(1) 3じ40ぷん



(2) 9じ24ぷん



26

なんじなんぷん

なんじなんぷん

なまえ

ねん くみ ばん

知識・技能 /5もん

思考・判断・表現 /-


/100点




(●)は完答で20点,ほか各20点

① したの とけいを よみましょう。

(1)




(2)




② せんで おすびましょう。



06:05




5じ25ふん




01:30

③ ながい はりを かきましょう。

(1) 10じ10ふん



(2) 4じ45ふん



26

なんじなんぷん

なんじなんぷん

なまえ

ねん

くみ

ばん

／11もん

●とけいの よみかた●

みぎの とけいを よみましょう。

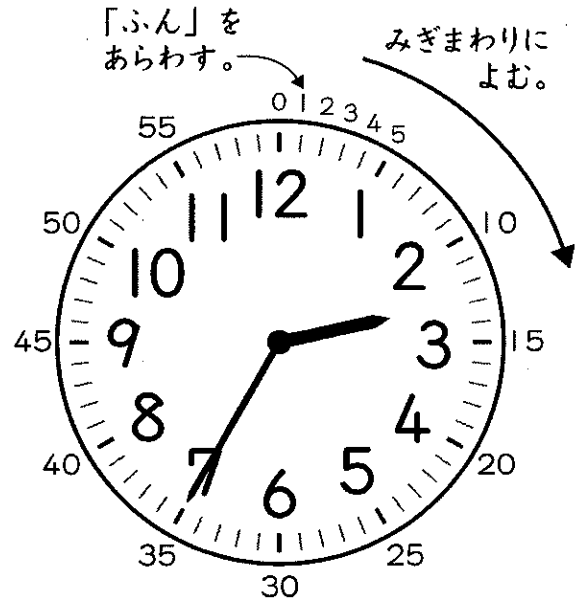
- ① 「○じ」は、みじかい はりで  
よむ。みじかい はりが  
2と3の あいだなので、

( )じ

- ② 「○ふん」は、ながい  
はりでよむ。  
1めもりは1ぷんなので、


( )ふん

こたえ (      じ      ぶん)




① したの とけいを よみましょう。

(1)





(2)





(3)





(4)




(5)




(6)



26

なんじなんぷん

なんじなんぷん

なまえ

ねん

くみ

ばん


/3もん

- ① けんたさんとまりさんとなおとさんは、3じ10ぷんに  
 こうえんにあつまって、あそぶやくそくをしました。  
 3にんがこうえんにきたとき、とけいはしたのよう  
 になっていました。  
 やくそくにまにあったのは、だれですか。


けんた



まり



なおと




こたえ


さん

- ② ただしいとけいはどれですか。きごうをかきましょう。


(1) ① 8じ




② 12じ35ふん




③ 2じ25ふん





(2) ① 1じ3ふん



② 2じ56ふん



③ 11じ45ふん



# 28

なんじなんぷん

## なんじなんぷん

なまえ

ねん

くみ


ばん

／100点


(各10点)

① したの とけいを よみましょう。


(1)



(2)



(3)



② せんで おすびましょう。

(1)




6じ10ぶん

(2)




1じ25ぶん

(3)



10じ59ぶん


(4)




2じ31ぶん

③ ながい はりを かきましょう。


(1) 7じ24ぶん



(2) 4じ34ぶん



(3) 1じ2ぶん



「一」から「九」までいっしょに声に出して読んでみるとよいでしょう。

1

げんご

# 一年生の かんじ(1)

ねんご

ねん くみ ばん

16まん

( ) には — の かんじの なみを、□ には かんじを かきまじめて。

( おお )

① 大<sup>お</sup>きな は<sup>お</sup>こ。

( いぬ )

② かわい<sup>い</sup>い 犬<sup>い</sup>。

( しゃ )

③ じょうよう<sup>じ</sup> 車<sup>や</sup>。

( ひと )

④ たくさん<sup>た</sup>の 人<sup>ひと</sup>。

( こ )

⑤ 子<sup>こ</sup>ども の く<sup>こ</sup>に。

( そら )

⑥ ひろい<sup>ひろ</sup> 空<sup>そら</sup>。

( おとこ )

⑦ 男<sup>おとこ</sup>の 子<sup>こ</sup>。

( おんな )

⑧ 女<sup>おんな</sup>の 子<sup>こ</sup>。

⑨ 一 <sup>ひと</sup> つらの ぶどう。

⑩ 二 <sup>ふた</sup> つ できた。

⑪ まどを 三 <sup>みっ</sup> つ たたく。

●いちばん下の横線を長く書いているが見る。

⑫ ○を 四 <sup>よっ</sup> つ かく。

⑬ 五 <sup>ご</sup> つ の おはじき。

⑭ 六 <sup>むっ</sup> つ ねると お正月<sup>しょうがつ</sup>。

⑮ 七 <sup>なな</sup> つ の おいわい。

⑯ かねが 八 <sup>やっ</sup> つ なる。

※<sup>まががまがすし</sup>カタカナの「こ」と似ている。二画目は、はらうように教える。



# 2

げんご

## 一年生の かんじ(2)

なまえ

ねん くみ ばん

16ちん

( ) には — の かんじの なまえを、□ には かんじを かきましょつ。

( いっ )

① 一 びきの ねこ。

( に )

② こなたが 二 びき。

( よん )

③ 四 かいうたう。

( ご )

④ 五 この ボール。

( ろく )

⑤ おざらが 六 まい。

( しち・なな )  
「ひち」と書い  
ていないか、  
見る。

⑥ 七 人 の 子ども。

( はち )

⑦ ビルの 八 かい。

( くの )

⑧ 九 つ の ボタン。

⑨

手

をつないで あるく。

⑩

十

まで かぞえる。

⑪

大

きな こえで はなす。

⑫

あの

犬

は かわいいね。

●「犬」と「犬」はどこが違うか聞いてみる。

⑬

じどう

車

を うんでんする。

●筆順に注意。つらぬく縦棒は最後に書く。

⑭

あの

人

は だれだろう。

⑮

子

どもようの じてんしゃ。

⑯

空

に くもが うかんで いる。



なんじなんぷん

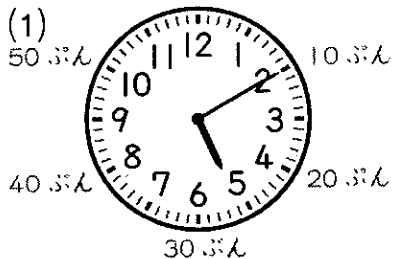
# なんじなんぷん

なまえ

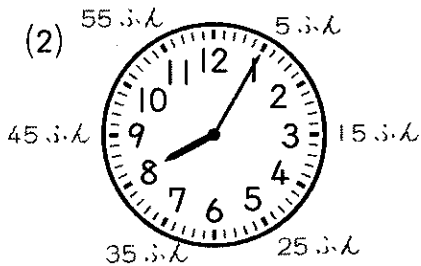
ねん くみ ばん

/ 8もん


① したのとけいをよみましょう。「〇じ」はみじかいはりのさすかずをよみます。



5じ10ふん




8じ5ふん




1じ50ふん



6じ23ふん



10じ38ふん



2じ2ふん


20ふんよりも3めもりすすんでいます。

40ふんよりも2めもりもどります。

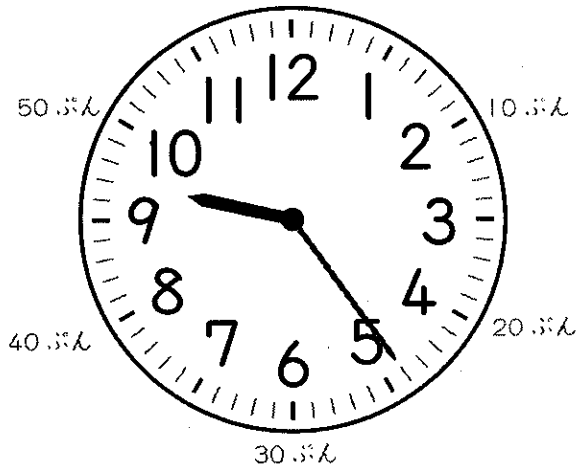
2じよりも2めもりすすんでいます。

② ながいはりをかきましょう。

(1) 3じ40ふん



(2) 9じ24ふん



20ふんよりも4めもりすすめます。

26

なんじなんぷん  
なんじなんぷん


なまえ  
ねん くみ ぼん

知識・技能 /5もん  
思考・判断・表現 /—  
/100点

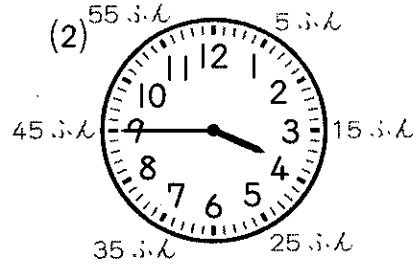


(◎)は完答で20点,ほか各20点

① したの とけいを よみましょう。




7じ20ふん




3じ45ふん


② せんで おすびましょう。



06:05  
6じ5ふん




5じ25ふん




01:30  
1じ30ふん  
(1じはん)

③ ながい はりを かきましょう。

(1) 10じ10ふん



(2) 4じ45ふん



ながい はりの  
1めもりは  
1ふんです。

●とけいのよみかた●

みぎのとけいをよみましょう。

- ① 「〇じ」は、みじかい はりでよむ。みじかい はりが2と3のあいだなので、

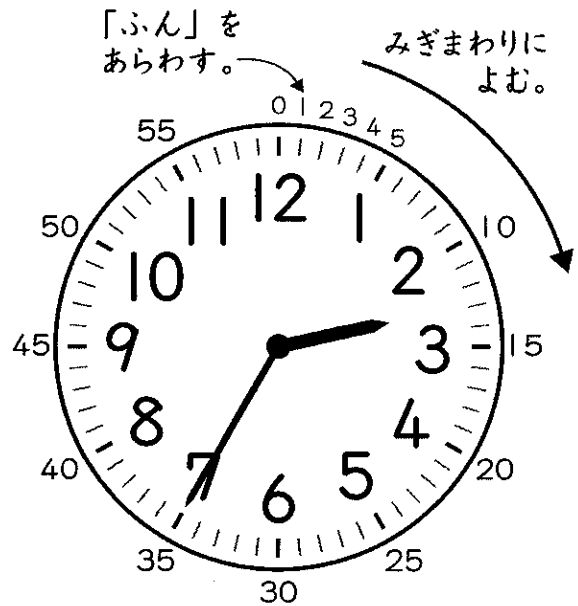
( 2 )じ

- ② 「〇ふん」は、ながい はりでよむ。

1めもりは1ぷんなので、

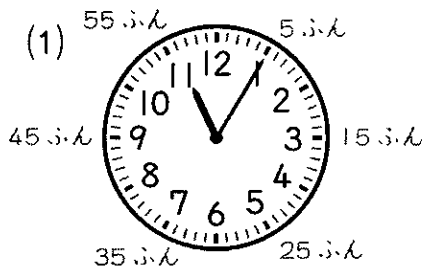
( 35 )ふん

こたえ ( 2 じ 35 ふん )




① したのとけいをよみましょう。


「〇じ」はみじかい はりのちいさいほうをよみます。



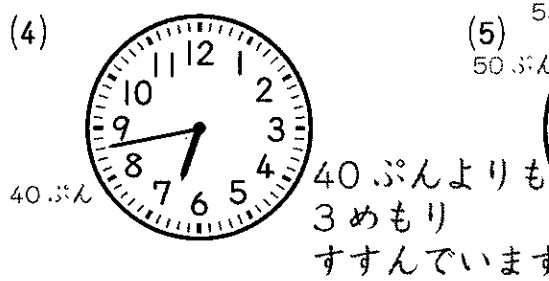
11じ5ふん



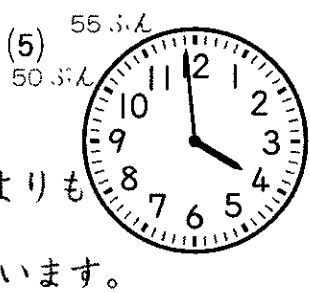
4じ55ふん




1じ20ふん



6じ43ふん



3じ59ふん




9じ14ふん

4じよりも1めもりもどります。


10ふんよりも4めもりすすんでいます。

<b>26</b>	なんじなんぷん <b>なんじなんぷん</b>	なまえ _____	ねん ぐみ ばん _____	/3もん
-----------	---------------------------	--------------	-------------------	------


- ① けんたさんとまりさんとなおとさんは、3じ10ぷんに  
 こうえんにあつまって、あそぶやくそくをしました。  
 3にんがこうえんにきたとき、とけいはしたのよう  
 になっていました。  
 やくそくにまにあったのは、だれですか。



3じ20ぷん



3じ5ふん

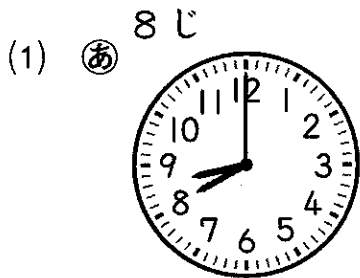


3じ50ぷん  
こたえ


まり

 さん

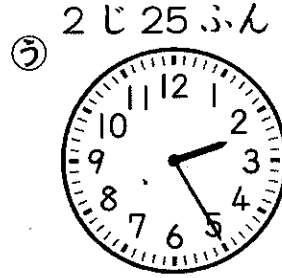
- ② ただしいとけいはどれですか。きごうをかきましょう。



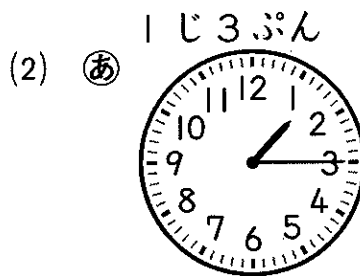
みじかいはりは  
8をさします。




みじかいはりは  
12と1のあいだをさします。




⑩



1じ15ふん



55ふん  
15ふん



20ふん  
21ふん  
22ふん  
11じ22ふん

⑨

# 28

なんじなんぷん

## なんじなんぷん

なまえ

ねん

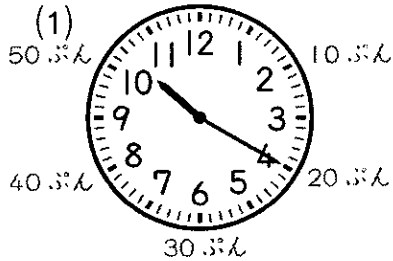
くみ

ばん


/100点

(各10点)


① したの とけいを よみましょう。



10じ20ふん




8じ45ふん




9じ12ふん

② せんで おすびましょう。


ながい はりの 1めもりは 1ふんです。10ふんよりも 2めもり すずみます。




6じ10ふん



1じ25ふん




10じ59ふん




2じ31ふん

③ ながい はりを かきましょう。

(1) 7じ24ふん



(2) 4じ34ふん



(3) 1じ2ふん

